

.....
név

Földrajz szakasvizsga

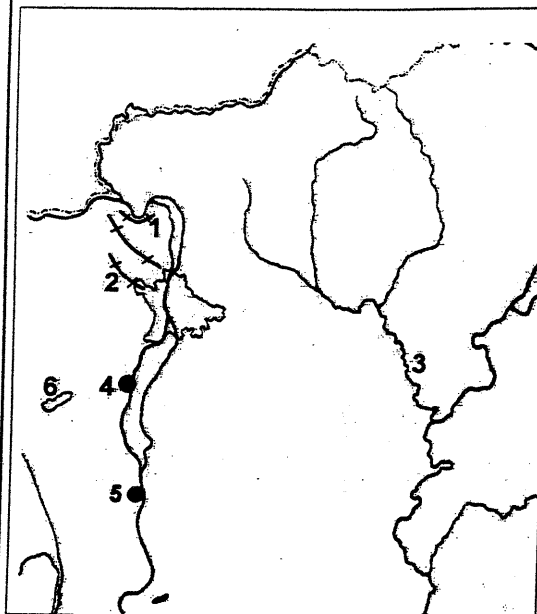
Vörösmarty Mihály Gimnázium

2012. május

- Értékelés: 0 – 30% : 1 (elégtelen)
 31 – 50% : 2 (elégséges)
 51 – 70% : 3 (közepes)
 71 – 85% : 4 (jó)
 86 – 100% : 5 (jeles)

Oldja meg a feladatokat a térképészlet alapján!

a) Nevezze meg, hogy mely földrajzi helyeket jelölik a térképészletbe írt számok!



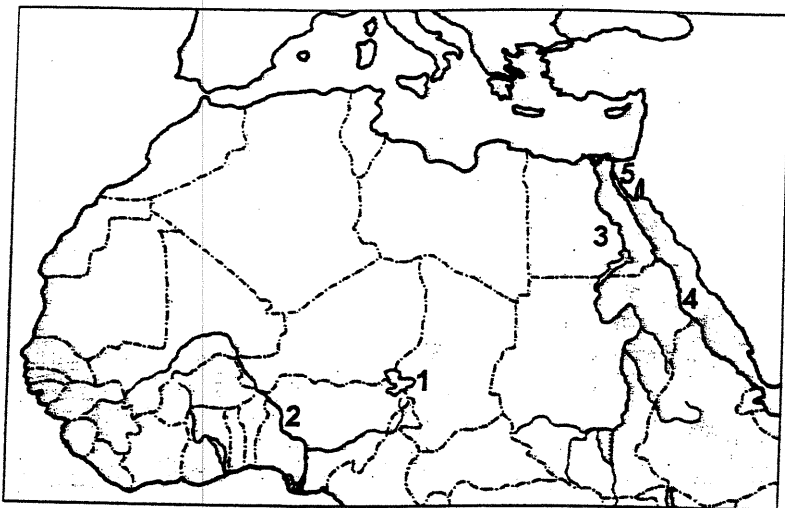
- 1. - hegység
- 2. - hegység
- 3. (folyó)
- 4. (város)
- 5. (város)
- 6. - tó

b) Válaszoljon a következő kérdésekre a térképészlet számainak beírásával!

- a) Itt található az ország legnagyobb kőolajfinomítója és hőerőműve.
- b) A térképen jelöltek közül melyik hegységet építik fel jellemzően magmás eredetű kőzetek?
- c) E városban található az ország legnagyobb vas- és acélkohászati üzeme.

.....

Oldja meg a feladatokat a térképészlet alapján!



a) Nevezze meg, hogy mely földrajzi helyeket jelölik a térképészletbe írt számok!

1. - tó
2. (folyó)
3. (folyó)
4. - tenger
5. - csatorna

b) Válaszolja a kérdésekre!

a) Milyen típusú torkolattal ömlik a tengerbe a 3. számmal jelzett folyó?

.....

b) Milyen mozgástípusú kőzetlemez-szegélyek mentén keletkezett a 4. számmal jelzett tenger?


c) Mi a jelentősége az 5. számmal jelzett csatornának?

.....

2 pont

8 pont

Figyelje meg az ábrát, majd oldja meg a feladatokat!



a) Mely településtípust ábrázolja a rajz?

1 pont

b) Írja a települési övek mellé a jellemzőjük betűjelét!

Külső lakóöv

Agglomerációs öv

Központ

Belső lakóöv

- A) Települései szoros gazdasági kapcsolatban állnak a központi és az övön belüli többi településsel.
- B) Itt tömörülnek a szolgáltatási intézmények és az üzletek.
- C) Az övben lakótelepek családiházak negyedekkel és ipari területekkel váltakoznak.
- D) Sűrűn beépített öv, sok helyen felújításra szoruló lakóépületek jellemzik.
- E) Nappali népessége lényegesen nagyobb, mint az éjszakai.

5 pont

6 pont

Olvassa el a megállapításokat, majd válaszoljon a kérdésekre!

A Föld két pontjáról a következőket mondhatjuk el:

- Fél év után a Nap végre felkel.
- Fél év után a Nap lenyugszik.

a) Hol találhatók ezek a helyek a Földön?

.....

b) Az év mely napjain történhet meg a fenti jelenség?

.....

c) Számítsa ki, hogy mekkora távolságra vannak ezek a pontok az Egyenlítőtől!

A számítást itt végezze el!

Számítás:

Távolságuk az Egyenlítőtől: km.

A bal oldali oszlopban állításokat talál, a jobb oldaliban pedig az országneveket. Kapcsolja össze az állításokat a megfelelő országokkal! Írja a táblázatba az állítások sorszáma alá a hozzájuk kapcsolható országok betűjelét! *Egy állításhoz csak egy ország tartozhat, de nem tartozik állítás minden országhoz.*

Állítás	Országok
1. Európa legjelentősebb barnaköszén-kitermelő országa.	A. Amerikai Egyesült Államok
2. A világ második legnépesebb állama.	B. Törökország
3. A csendes-óceáni gazdasági erőter centrum országa.	C. India
4. A világon ebben az országban a legnagyobb a működőtöke-export és -import értéke.	D. Japán
5. A tengerparton létrehozott különleges gazdasági övezetekben kialakult piacgazdaság ellenére az országra még mindig az erős központi irányítás jellemző.	E. Franciaország
6. A Föld legnagyobb területű állama, az egykori Szovjetunió meghatározó tagországa volt.	F. Kína
7. Ebben az országban található a legnagyobb lélekszámu, a határunkon túl élő magyar nemzetiség.	G. Lengyelország
8. A legfejlettebb gazdasággal rendelkező dél-európai ország.	H. Mexikó
	I. Németország
	J. Olaszország
	K. Oroszország
	L. Románia
	M. Spanyolország
	N. Szlovákia

Az állítás sorszáma	1.	2.	3.	4.	5.	6.	7.	8.
Az ország betűjele	I.							

pl. ↑

17 pont

Mely fogalmakra ismer a leírásokban? Írja a fogalmakat a pontozott vonalra!

1. A mérsékelt övezetben kialakuló légörvény, amelynek központjában alacsony légnyomás uralkodik.
2. A folyó vízhozamának és vízállásának szabályszerű változása.
3. Egy adott év leghidegebb és legmelegebb hónapjának középhőmérséklete közötti különbség.
4. Az azonos légnyomású pontokat összekötő görbe.
5. Időszakosan feltörő hévforrás, a vulkáni utóműködés egyik típusa.
6. A felszín alatt, két vízzáró réteg között elhelyezkedő víztartó rétegben felhalmozódó víz.

6 pont

A bal oszlopban fogalmakat olvashat, a jobb oszlopban pedig a hozzájuk tartozó meghatározásokat! Írja a fogalom elé a megfelelő meghatározás betűjelét!
(Nem mindegyik meghatározáshoz tartozik fogalom.)

Fogalmak:

Meghatározások:

- | | |
|--------------------|--|
|1. működőtőke | a) Az adósságok összege gyorsabban növekszik, mint az a forrás, amelyből a törlesztő részlet és a kamat fizethető. |
|2. pénz | b) Az árak általános és tartós növekedése. |
|3. infláció | c) Bankjegyek és érmék. |
|4. eladósodás | d) Fizetési eszköz, fizetési egység és értékmegőrző. |
|5. értékpapír | e) Az a tőke, amelyet a termelésbe ruháznak be. |
|6. készpénz | f) A hitel ára. |
|7. kamat | g) Olyan okiratok, amelyeknek tulajdonosai meghatározott pénzbeli követelésekkel léphetnek fel a kibocsátó szervezettel szemben. |
| | h) Nemzetközi elszámolásra szolgáló fizető-eszköz. |

7 pont

Olvassa el az alábbi szövegrészletet! Válaszoljon a hozzá kapcsolódó kérdésekre, és oldja meg a feladatokat!

„ Jáva szigetén egyetlen év alatt 20 000 hektáros mezőgazdasági területet foglalnak el a növekvő városok. Kínában öt év alatt csaknem 1 millió hektáros termőföldet építettek be a 80-as és a 90-es évek fordulóján. Ugyanez idő alatt az Egyesült Államokban tíz New York nagyságának megfelelő területet vettek el az építkezések a mezőgazdaságtól. Magyarországon is „divat” a zöldmezős beruházás. Érdekes meghatározás. A fogalom használói különleges varázserőt tulajdonítanak e fogalomnak. Többnyire azt várják egy ilyen létesítménytől, hogy segít hazánk kátyúba ragadt szekerét kimozdítani. A fogalmat az utóbbi idők legsikeresebb magyar alkotásának tartják. Valóban így lenne?...

Mi is az a zöldmezős beruházás? Kellő mennyiségű pénz és ötlet birtokában, s azzal a tudással, hogy befektetést milyen termékkel lehet kamatoztatni, kiválasztanak egy szép, lehetőleg városhoz közeli, sík, tereptárgyaktól mentes területet...

Régi iparosaink feltehetően azt a területet vették meg az új beruházásaikhoz, amely a legolcsóbb, mezőgazdaságilag a legértéktelembb volt, s más szempontból is megfelelt a céljaiknak. Így indult annak idején például az Óbudai Hajógyár telepítése a Margitsziget fölött, egy másik sziget által védett öböl partján...”
(forrás: sulinet)

- a) Keresse meg a szövegrészlet segítségével, hogy milyen haszna lehet egy zöldmezős beruházásnak! Karikázza be a megfelelő állítás sorszámát! A lehetséges válaszok számánál több bejelölése pontlevonással jár!

A zöldmezős beruházások hasznosak, mert

1. a beruházások révén új munkahelyek jönnek létre;
2. növekszik a zöldterületek aránya;
3. így jobban lehet hasznosítani a gyengébb minőségű földeket;
4. az állam vagy az önkormányzat bevételhez jut;
5. csökken a környezetszennyezés.

3 pont

- b) Nevezzen meg két olyan tényezőt, amely a hátránya a zöldmezős beruházásnak!

.....


.....

2 pont

5 pont

Figyelje meg a térképvázlaton a munkanélküliségi mutatót az egyes régiókban!

Az adatok segítségével válaszoljon az alábbi kérdésekre!



a) Melyik régióban volt a legnagyobb a munkanélküliség aránya?

.....

1 pont

Sorolja fel a régióhoz tartozó megyéket!

.....

1 pont

Miért ebben a régióban volt a legnagyobb a munkanélküliség? Nevezzen meg három okot!

-
-
-

3 pont

b) Melyik régió munkanélküliségi adatai a legkedvezőbbek?

.....

1 pont

6 pont